

Miejsce
na naklejkę
z kodem szkoły

dysleksja

MFA-P1A1P-062

EGZAMIN MATURALNY Z FIZYKI I ASTRONOMII

Arkusz I

POZIOM PODSTAWOWY

Czas pracy 120 minut

ARKUSZ I

MAJ
ROK 2006

Instrukcja dla zdającego

1. Sprawdź, czy arkusz egzaminacyjny zawiera 13 stron (zadania 1 – 21). Ewentualny brak zgłoś przewodniczącemu zespołu nadzorującego egzamin.
2. Rozwiązania i odpowiedzi zapisz w miejscu na to przeznaczonym przy każdym zadaniu.
3. W rozwiązaniach zadań rachunkowych przedstaw tok rozumowania prowadzący do ostatecznego wyniku oraz pamiętaj o jednostkach.
4. Pisz czytelnie. Używaj długopisu/pióra tylko z czarnym tuszem/atramentem.
5. Nie używaj korektora, a błędne zapisy wyraźnie przekreśl.
6. Pamiętaj, że zapisy w brudnopisie nie podlegają ocenie.
7. Podczas egzaminu możesz korzystać z karty wybranych wzorów i stałych fizycznych, linijki oraz kalkulatora.
8. Wypełnij tę część karty odpowiedzi, którą koduje zdający. Nie wpisuj żadnych znaków w części przeznaczonej dla egzaminatora.
9. Na karcie odpowiedzi wpisz swoją datę urodzenia i PESEL. Zamaluj ■ pola odpowiadające cyfrom numeru PESEL. Błędne zaznaczenie otocz kółkiem ⊗ i zaznacz właściwe.

Za rozwiązanie
wszystkich zadań
można otrzymać
łącznie
50 punktów

Życzymy powodzenia!

Wypełnia zdający przed
rozpoczęciem pracy

--	--	--	--	--	--	--	--	--	--	--	--	--

PESEL ZDAJĄCEGO

--	--	--

KOD
ZDAJĄCEGO


Zadania zamknięte

W zadaniach od 1. do 10. wybierz i zaznacz na karcie odpowiedzi jedną poprawną odpowiedź.

Zadanie 1. (1 pkt)

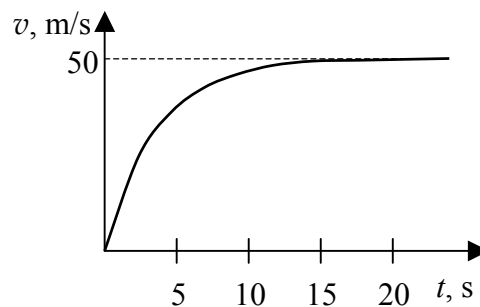
Tomek wchodzi po schodach z parteru na piętro. Różnica wysokości między parterem a piętrem wynosi 3 m, a łączna długość dwóch odcinków schodów jest równa 6 m. Wektor całkowitego przemieszczenia Tomka ma wartość

- A. 3 m
- B. 4,5 m
- C. 6 m
- D. 9 m

**Zadanie 2. (1 pkt)**

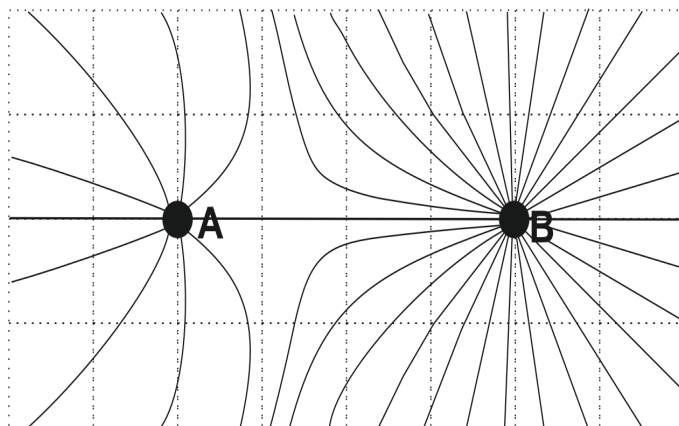
Wykres przedstawia zależność wartości prędkości od czasu dla ciała o masie 10 kg, spadającego w powietrzu z dużej wysokości. Analizując wykres można stwierdzić, że podczas pierwszych 15 sekund ruchu wartość siły oporu

- A. jest stała i wynosi 50 N.
- B. jest stała i wynosi 100 N.
- C. rośnie do maksymalnej wartości 50 N.
- D. rośnie do maksymalnej wartości 100 N.

**Zadanie 3. (1 pkt)**

Rysunek przedstawia linie pola elektrostatycznego układu dwóch punktowych ładunków. Analiza rysunku pozwala stwierdzić, że ładunki są

- A. jednoimienne i $|q_A| > |q_B|$
- B. jednoimienne i $|q_A| < |q_B|$
- C. różnoimienne i $|q_A| > |q_B|$
- D. różnoimienne i $|q_A| < |q_B|$

**Zadanie 4. (1 pkt)**

Jądro izotopu ${}_{92}^{235}\text{U}$ zawiera

- A. 235 neutronów.
- B. 327 nukleonów.
- C. 143 neutrony.
- D. 92 nukleony.

Zadanie 5. (1 pkt)

Zdolność skupiająca zwierciadła kulistego wklęsłego o promieniu krzywizny 20 cm ma wartość

- A. 1/10 dioptrii.
- B. 1/5 dioptrii.
- C. 5 dioptrii.
- D. 10 dioptrii.

Zadanie 6. (1 pkt)

Piłkę o masie 1 kg upuszczono swobodnie z wysokości 1 m. Po odbiciu od podłoża piłka wzniosła się na maksymalną wysokość 50 cm. W wyniku zderzenia z podłożem i w trakcie ruchu piłka straciła energię o wartości około

- A. 1 J
- B. 2 J
- C. 5 J
- D. 10 J

Zadanie 7. (1 pkt)

Energia elektromagnetyczna emitowana z powierzchni Słońca powstaje w jego wnętrzu w procesie

- A. syntezy lekkich jąder atomowych.
- B. rozszczepienia ciężkich jąder atomowych.
- C. syntezy związków chemicznych.
- D. rozpadu związków chemicznych.

Zadanie 8. (1 pkt)

Stosowana przez Izaaka Newtona metoda badawcza, polegająca na wykonywaniu doświadczeń, zbieraniu wyników swoich i cudzych obserwacji, szukaniu w nich regularności, stawianiu hipotez, a następnie uogólnianiu ich poprzez formułowanie praw, to przykład metody

- A. indukcyjnej.
- B. hipotetyczno-dedukcyjnej.
- C. indukcyjno-dedukcyjnej.
- D. statystycznej.

Zadanie 9. (1 pkt)

Optyczny teleskop Hubble'a krąży po orbicie okołoziemskiej w odległości około 600 km od powierzchni Ziemi. Umieszczono go tam, aby

- A. zmniejszyć odległość do fotografowanych obiektów.
- B. wyeliminować zakłócenia elektromagnetyczne pochodzące z Ziemi.
- C. wyeliminować wpływ czynników atmosferycznych na jakość zdjęć.
- D. wyeliminować działanie sił grawitacji.

Zadanie 10. (1 pkt)

Podczas odczytu za pomocą wiązki światła laserowego informacji zapisanych na płycie CD wykorzystywane jest zjawisko

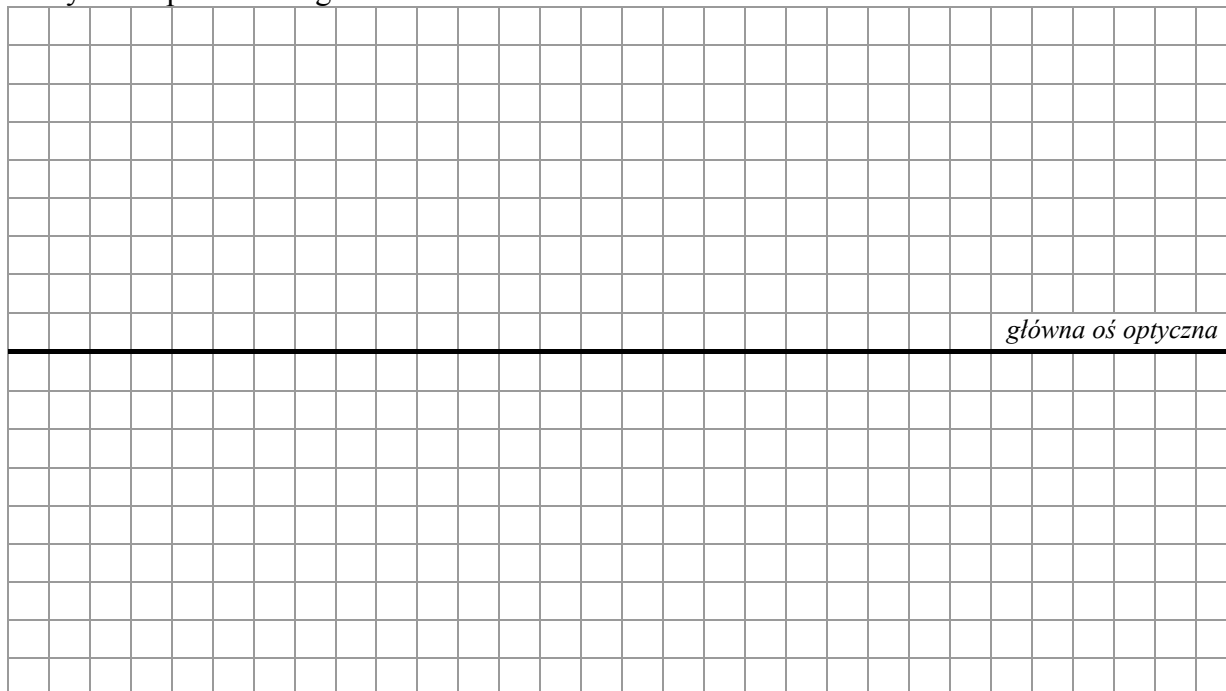
- A. polaryzacji.
- B. odbicia.
- C. załamania.
- D. interferencji.

Zadanie 18. Dwie soczewki (3 pkt)


Dwie identyczne soczewki płasko-wypukłe wykonane ze szkła zamocowano na ławie optycznej w odległości 0,5 m od siebie tak, że główne osie optyczne soczewek pokrywają się. Na pierwszą soczewkę wzdłuż głównej osi optycznej skierowano równoległą wiązkę światła, która po przejściu przez obie soczewki była nadal wiązką równoległą biegnącą wzdłuż głównej osi optycznej.

18.1 (1 pkt)

Wykonaj rysunek przedstawiający bieg wiązki promieni zgodnie z opisaną sytuacją. Zaznacz na rysunku położenie ognisk dla obu soczewek.

**18.2 (2 pkt)**

Oblicz ogniskową układu zbudowanego w powietrzu z tych soczewek po złożeniu ich płaskimi powierzchniami. Przyjmij, że promienie krzywizny soczewek wynoszą 12,5 cm, a bezwzględne współczynniki załamania światła w powietrzu oraz szkłe wynoszą odpowiednio 1 i 1,5.



BRUDNOPIS